

SECRETARIA MUNICIPAL DE EDUCAÇÃO
ROTEIRO DE ATIVIDADES COMPLEMENTARES DE ESTUDO – COVID19

28º ROTEIRO - 2021

ESCOLA MUNICIPAL DOUTOR VITÓRIO FRANKLIN.

PROFESSORA: ROSANA NOVAES PUZZI

ALUNO (A): _____ SRM 4º ANO

COMPONENTE CURRICULAR- MATEMATICA E HABILIDADE.

PERÍODO DE REALIZAÇÃO: 13/09 – 24/09/2021


Senhores Pais e Responsáveis

Continuemos em isolamento social para vencer o vírus da covid-19 e torçemos para em breve estarmos com nossas atividades em sala de aula retomadas. Enquanto isso não acontece, segue os roteiros de atividades para realizarem em casa. No momento da realização das atividades dos roteiros, deve-se observar a necessidade de organização e cuidado com o documento de registro de suas tarefas.

As atividades enviadas neste período de isolamento são importantes para o desenvolvimento de seu filho. Contamos que todas essas atividades sejam realizadas no ritmo e tempo de cada aluno, mas que possível todas sejam feitas. No roteiro a seguir estão as atividades e as orientações para sua execução. Se tiverem dúvidas entre em contato no nosso grupo no WhatsApp no horário das 7:30 às 11:30h, estarei à disposição para ajudá-los.

O QUE VOCÊ VAI ESTUDAR:	Matemática- composição e decomposição numérica, escrita de números, antecessor, sucessor, ordem crescente, calculo mental e adição. Habilidades- Percepção, atenção, concentração.
PARA QUE VAMOS ESTUDAR ESSES CONTEÚDOS?	Desenvolver a escrita de números. Antecessor, sucessor, ordem crescente, calculo mental, adições. Desenvolver a atenção, percepção e concentração através da procura de objetos escondidos na imagem.
	Organize seus estudos. Realize as atividades e guarde-as. Realize as atividades com atenção e capricho.
	CAPRICHE NA ATIVIDADE. O CAPRICO TAMBÉM SERÁ OBSERVADO. PINTE AS QUE FOREM POSSÍVEL

1) Encontre os objetos escondidos na imagem e pinte-os destacando.



COMPONHA OS NÚMEROS ABAIXO:

- a) SETE CENTENAS + DUAS DEZENAS + CINCO UNIDADES = _____
- b) UMA CENTENA + SETE DEZENAS = _____
- c) TRÊS CENTENAS + OITO UNIDADES = _____
- d) CINCO CENTENAS + QUATRO DEZENAS + SEIS UNIDADES = _____
- e) OITO CENTENAS + CINCO DEZENAS + NOVE UNIDADES = _____
- f) DUAS CENTENAS + SETE DEZENAS + TRÊS UNIDADES = _____
- g) CINCO CENTENAS + NOVE DEZENAS = _____

DECOMPONHA OS NÚMEROS ABAIXO:

- a) QUARENTA E SEIS = _____
- b) TRINTA E NOVE = _____
- c) OITOCENTOS E VINTE E QUATRO = _____
- d) SEISCENTOS E TRINTA = _____
- e) NOVENTA E TRÊS = _____
- f) QUATROCENTOS E CINCO = _____
- g) SETENTA E DOIS = _____

Coloque em ordem crescente os números abaixo.

a) **278 399 207 119 131 365.**

b) **128 391 105 111 265 129.**

c) **476 134 291 128 479 102 376.**

Complete a tabela.

+1

203	
199	
278	
299	

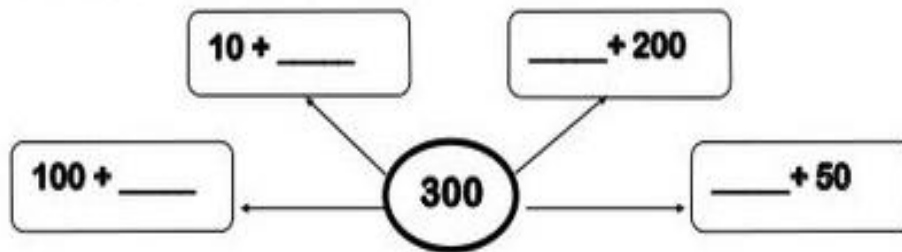
+10

88	
128	
247	
290	

+100

2	
18	
148	
200	

 **Completa.**



Complete a tabela **ACRESCENTANDO - 5 e +5.**













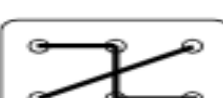







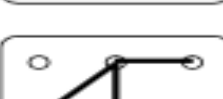



Exemplo- 134 – 139 – 144

139	129	119
169	100	180
99	140	150
159	120	170
130	189	160
179	149	198





















Encontre todos os números 346 , pinte-os destacando.






3 **4** **6**






3	6	4	6	3	4	4	6	6	3	4
6	3	4	4	6	3	6	4	4	3	4
6	3	4	4	6	3	4	4	6	3	4
4	3	4	6	6	3	6	3	4	4	6
3	6	4	6	4	6	3	4	3	3	6
4	6	3	4	6	3	4	3	6	3	4
4	6	3	6	4	4	3	4	6	3	4
4	6	3	4	4	6	3	4	4	3	4
6	6	3	6	3	4	4	6	3	6	4






			
			
			
			
			
			


Dê a localização de cada objeto.




	A	B	C	D	E	F	G	H	I	J
1										
2										
3										
4										
5										
6										
7										
8										
9										
10										

	D 2
	
	
	
	



JOGO DOS 7 ERROS



A TURMA DA MÔNICA ESTÁ AJUDANDO NO COMBATE AO MOSQUITO TRANSMISSOR DA DENGUE! VAMOS PARTICIPAR TAMBÉM, TOMANDO OS CUIDADOS NECESSÁRIOS E ENCONTRANDO OS SETE ERROS ENTRE AS FIGURAS?

